

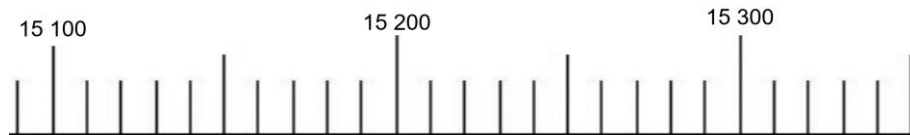
CM2

## Le nombre du jour (2)

1/ écrire dans le tableau :

milliards			millions			mille			unités		
C	D	U	C	D	U	C	D	U	C	D	U

2/ Placer sur la droite graduée le nombre :



3/ Arrondis ce nombre à la centaine près : .....

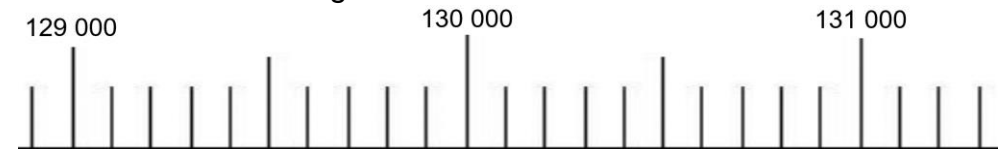
CM2

## Le nombre du jour (2)

1/ écrire dans le tableau :

millions			mille			unités		
C	D	U	C	D	U	C	D	U

2/ Placer sur la droite graduée le nombre :



3/ Arrondis ce nombre au millier près : .....

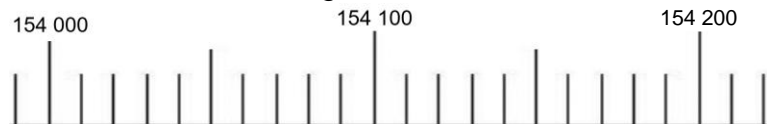
CM2

## Le nombre du jour (2)

1/ écrire dans le tableau :

millions			mille			unités		
C	D	U	C	D	U	C	D	U

2/ Placer sur la droite graduée le nombre :



3/ Arrondis ce nombre à la centaine près : .....

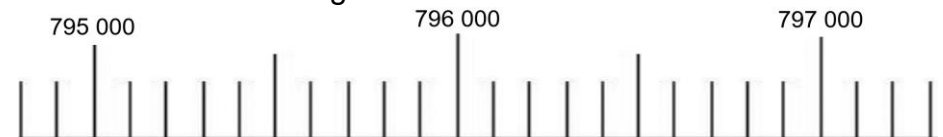
CM2

## Le nombre du jour (2)

1/ écrire dans le tableau :

millions			mille			unités		
C	D	U	C	D	U	C	D	U

2/ Placer sur la droite graduée le nombre :



3/ Arrondis ce nombre au millier près : .....